



CEPA Las Palmas

CUADERNO ESPECIAL DÍA DE CANARIAS



GRAN CANARIA

CURSO 2020 – 21

NOMBRE: _____

PREHISTORIA DE LA ISLA

Los primeros pobladores de Gran Canaria se llamaban **kanarii** y la isla **Kanaria** .Se cree que vinieron del norte de África entre los siglos V y I antes de Cristo , eran **pueblos de origen bereber (amazig)**.



¿Cómo se llamaban los primeros pobladores de Gran Canaria?

¿De dónde vinieron los primeros habitantes?

Habitaban en cuevas (trogloditas) y luego en casas circulares de piedra y planta cruciforme, cubiertas de palos, lajas, hojas y ramas.



Se alimentaban de dátiles, cebada, trigo, carne y leche de cabra, oveja, también cerdo. Lapas, burgados, pescado y morenas, llegando a utilizar anzuelos fabricados con cuernos de cabra. El gofio alimento habitual hecho con cebada, trigo, helechos, etc.



Escribe al menos el nombre de cuatro alimento utilizados por los antiguos habitantes de Gran Canaria :

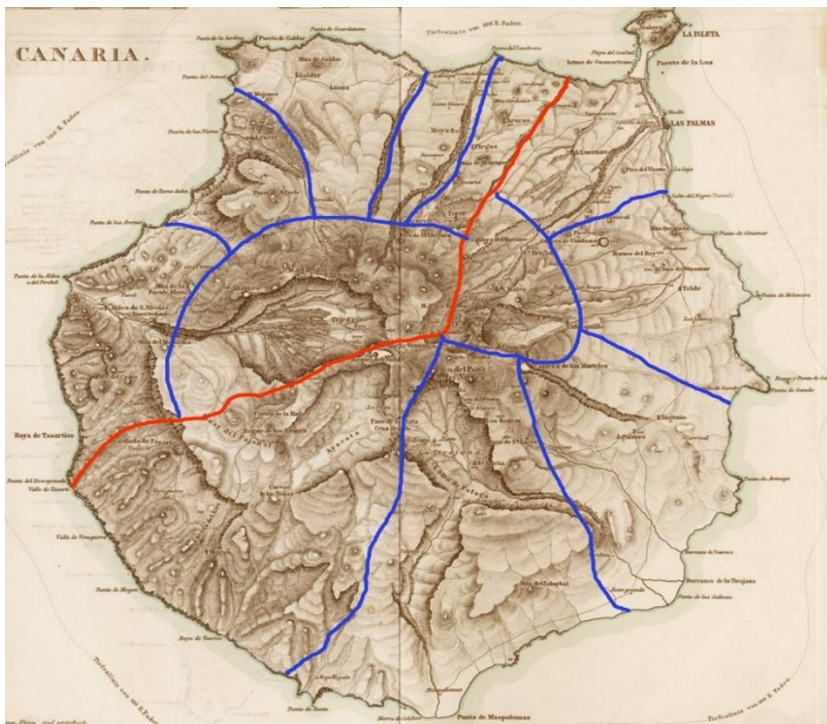
En Canaria (Gran Canaria) el jefe era el **Guanarteme**. La isla estaba dividida **en diez cantones o zonas**. **Acorán** era el nombre del dios supremo.

¿Cuál era el nombre del dios supremo para los primeros habitantes de Gran Canaria? _____



Cueva pintada de Galdar(Agaldar)

Los diez Cantones en que estaba dividida Gran Canaria



¿Cómo se le llamaba al jefe de Gran Canaria (Kanaria)? _____

¿En cuántos cantones estaba dividida la isla Kanaria? _____

Se practicaba la **momificación**. El inicio del año en todas las islas era en el mes de junio (**beñesmen**), momento en el que se recogía la cosecha y se celebraban grandes fiestas.

¿Cómo llamaban a las fiestas que celebraban en junio, para celebrar las cosechas? _____

La isla estaba dividida en los 10 reinos o cantones descritos, aunque esta división varío en varias ocasiones hasta derivar en dos grandes reinos; **Agaldar** en el norte y **Telde** en el sur. Al frente de Agaldar se encontraba **Gaunache Semidan** mientras que al frente de Telde reinaba **Bentagache**.

¿ Qué dos grandes reinos existieron en la isla Kanaria(Gran Canaria)?

al guanarteme en una asamblea conocida como **Sabor**. Por otro lado, **el Faycan era el máximo representante del poder religioso** y quien otorgaba la categoría de “noble”, requisito indispensable para poder ser elegido jefe o guanarteme. Para llevar a cabo sus funciones cada faycan se ayudaba de los **guayafaycanes** (para administrar justicia) y los **farayahucanes** para funciones relacionadas con la actividad militar. Además, existía la figura de las **maguas o maguadas**, mujeres que **actuaban como mediadoras entre lo divino y lo terrenal**.

¿Quién reinaba en Telde? _____

¿Cómo se llamaba al máximo representante religioso? _____

De los animales se obtenía la carne y la leche, la cual también era transformada en queso, mientras que con las pieles, huesos y tendones elaboraban sus ropas y otros utensilios como anzuelos, agujas, collares, etc. Los aborígenes practicaban la **trashumancia**, es decir, el traslado de ganado de unas zonas a otras para buscar pastos. En las zonas de costa fue también muy importante la práctica de **la pesca y el marisqueo**.

¿De qué se alimentaban los primeros habitantes? _____

Realiza las siguientes operaciones:

456	5467	6031	5042	1258
<u>+ 245</u>	<u>+ 490</u>	<u>+ 226</u>	<u>+ 2801</u>	<u>+ 2030</u>
968	678	679	9999	5029
<u>- 644</u>	<u>- 555</u>	<u>- 333</u>	<u>- 3333</u>	<u>- 2017</u>
23	43	76	12	89

X 1

x 2

x 3

x 6

x 5

3. Conteste las siguientes preguntas relacionadas con las figuras que se presentan a continuación:



- ¿Cuántas flechas hay en la anterior secuencia de figuras? _____
- ¿Qué figura hay a la derecha del triángulo? _____
- ¿Qué figura se encuentra entre dos flechas? _____
- ¿Qué figura está a la derecha de la flecha hacia arriba? _____
- ¿Qué figura está a la izquierda de la flecha hacia abajo? _____
- ¿Qué figura está entre el círculo y el rombo? _____

4. Si quiero comprar un libro que cuesta 35 euros, ¿qué monedas de las siguientes deberé utilizar y cuántas ?



Respuesta:

Realiza lo siguiente:

- a) Copia con letra caligráfica las frases subrayadas.
- b) Busca y anota tres nombres propios.
- c) Busca y anota cuatro nombres comunes.
- d) Busca y anota cinco adjetivos.
- e) Busca y anota cinco verbos

. La muerte de Doramas (Gran Canaria)

Desde lo alto de Arucas, El Guanarteme de Telde, Doramas, luchaba sin descanso frente a las tropas de Pedro de Vera. El conquistador, cansado y superado por las circunstancias, desplegó a sus hombres a un lugar cercano a donde Doramas tenía a sus luchadores, para llevar a cabo la batalla decisiva. Cuenta la leyenda, que en ese momento en el que ambos ejércitos estaban frente a frente, Doramas lanzó un grito poderoso hacia Pedro de Vera desafiándole a que lucharan ellos dos, para evitar más muertes de luchadores isleños. El conquistador desechó el desafío, **pero mandó a la lucha al hidalgo Juan de Hozes**, que abandonó la fila y se lanzó en su caballo a por Doramas, que lo mató rápidamente arrojándole una lanza. En ese momento Pedro de Vera, cegado por la ira, **arremetió contra el Guanarteme**, luchando durante un buen rato de manera intensa. Durante esta lucha entre el conquistador y Doramas, un escudero de Pedro de Vera, se acercó por la espalda del canario, que moribundo en el suelo, increpó semejante traición. Una vez muerto, le cortaron la cabeza, y la clavaron en una pica.

a) _____

b) _____

c) _____

d) _____

e) _____



Cabeza de Doramas (Addur amas)

Adargoma recorrió 12 kilómetros en 60 minutos,
Bencomo lo hizo 57 minutos y Tinguaro en 46 minutos.

¿Cuántas horas y minutos invirtieron los tres sumando sus tiempos?

Operaciones:

Resultado:

Coloca los signos de interrogación o de admiración al principio y final de cada frase según corresponda:

__ Cuándo llegó al poblado Iballa__

__ Cuánto duele ésta herida __

__ Quién preguntó a Geronte por ganado __

__ Qué bueno está el pescado __

__ Cómo se encuentra Fayna con su embarazo __

Ordena esta lista que está relacionada con un restaurante:

- Llamar a un restaurante.
- Reservar una mesa.
- Ir al restaurante.
- Aguardar en la entrada del restaurante.
- Pedir los platos al camarero.
- Leer el menú.
- Arreglarse para la ocasión.
- Decidir los platos

Suma: 2345,78 + 567,60

345,23 + 123,23

3. ¡Preste atención! Haga un círculo cada vez que aparezca esta estrella ★ :

★	★	★	★	★	★
★	★	★	★	★	★
★	★	★	★	★	★
★	★	★	★	★	★
★	★	★	★	★	★

4. Escriba la palabra contraria a...

- Oscuro _____
- Abierto _____
- Alto _____
- Fácil _____
- Frío _____
- Duro _____
- Caro _____
- Largo _____
- Rápido _____

Ancor le cambió 5 sacos de trigo por 4 de cebada a Nuhazet. Una semana después Ancor cambió 6 sacos de cebada por 2 cabras a Agoney. Si Ancor tenía al principio 15 sacos de trigo, 12 de cebada y 20 cabras.

¿ Cuántos sacos de trigo le quedaron después de los cambios?

¿ Cuántos sacos de cebada le quedaron después de los cambios?

¿ Y cuántas cabras le quedaron?

Escribe como se leen estos números:

225 _____

167 _____

59 _____

(3º_Din_02) Establecer relaciones de equivalencia entre las monedas y billetes (hasta 50 euros).

¿A cuántas monedas equivale?



equivale a

monedas de 5 céntimos.



equivale a

monedas de 1 céntimo.



equivale a

monedas de 50 céntimos.

Vicente Molinero-Caramun.

(3º_Din_02) Establecer relaciones de equivalencia entre las monedas y billetes (hasta 50 euros).

¿A cuántas monedas equivale?



equivale a

monedas de 1 cto



equivale a

monedas de 1 euro



equivale a

monedas de 1 cto



equivale a

billetes de 5 euros


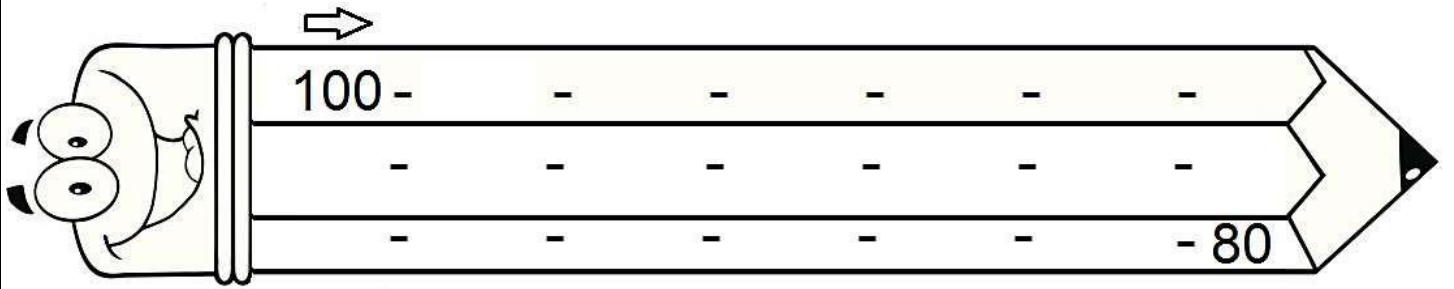
Vicente Molinero-Caramun.

Continúa

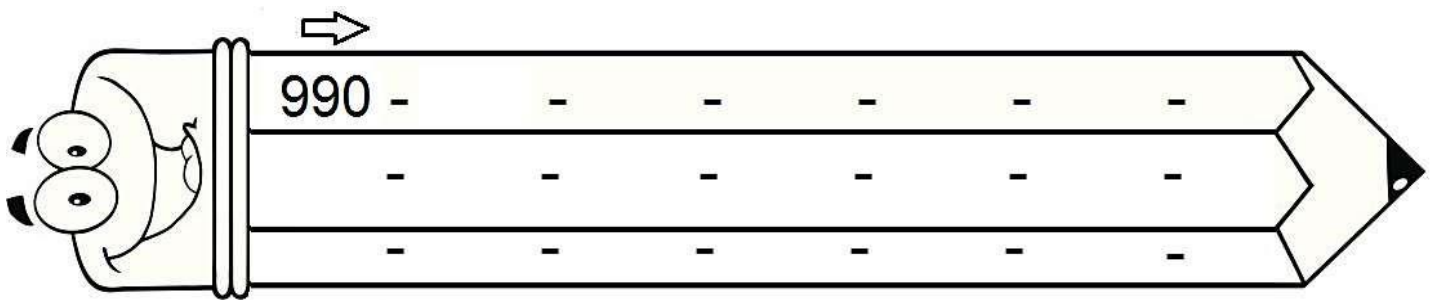
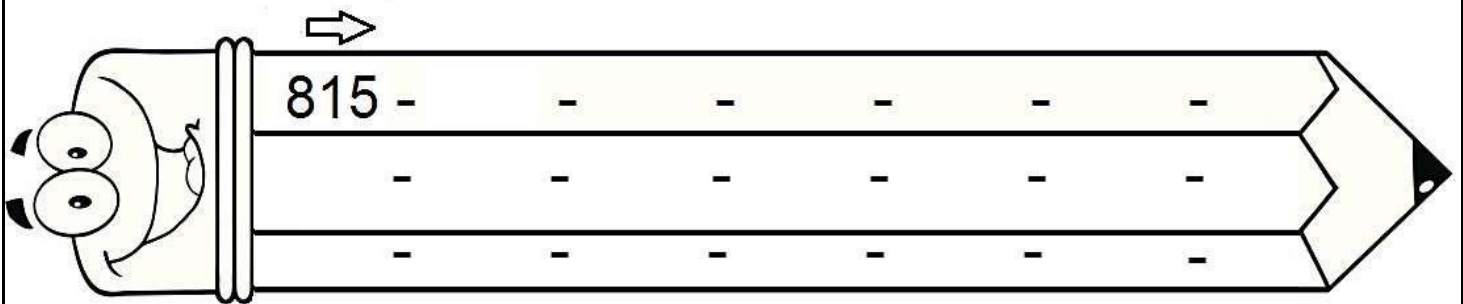
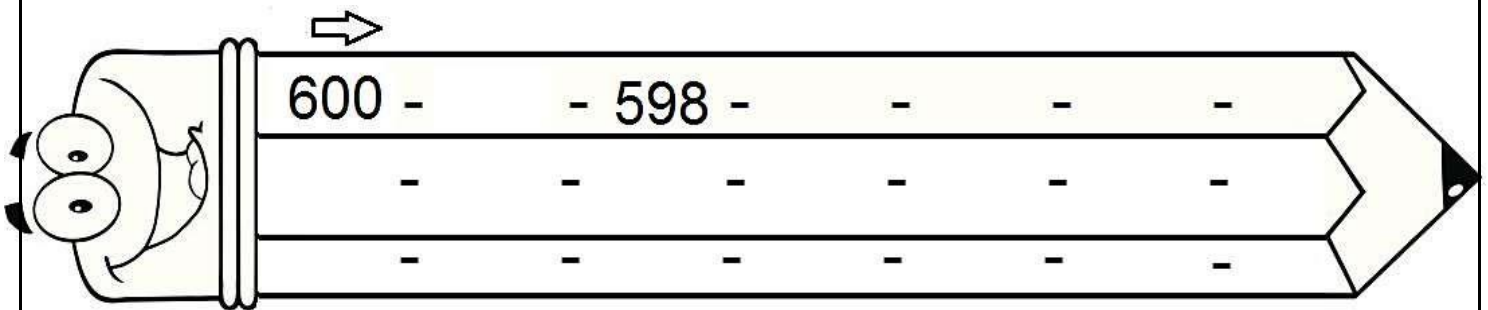
estas series de números

hacia atrás

:




Subraya con verde todos los números impares.





40

Busca las palabras en la sopa de letras.



CERDO	PATO
CONEJO	PAVO
GALLINA	POLLO
OVEJA	VACA

A	C	A	V	D	C	K	C
O	Y	W	L	O	B	A	E
V	S	M	N	Z	N	K	R
A	O	E	P	I	P	O	D
P	J	V	L	O	T	U	O
O	W	L	E	A	L	P	E
O	A	Q	P	J	T	L	W
G	J	Q	I	T	A	E	O

Coloca los signos < o > según corresponda:

2345 _ 678 469 _ 7130 4567 _ 4568

45,67 _ 45,68 234,10 _ 98,23 12,23 _ 12

EJERCICIOS DE SINONIMOS Y ANTONIMOS

1. **Subraya la palabra de cada grupo que no tiene el mismo significado.**

- Viejo, remoto, antiguo, arcaico, joven.
- Aumentar, incrementar, disminuir, crecer, ampliar.
- Vivienda, castillo, casa, hogar, domicilio.
- Defender, atacar, proteger, cuidar, resguardar.

2. **Subraya la palabra antónima de cada serie.**

- Hablar, comentar, callar, comunicar, expresar.
- Oscuro, sombrío, tenebroso, claro, lúgubre.
- Ancho, amplio, estrecho, espacioso, holgado.
- Rogar, pedir, demandar, dar, reclamar.

3. **Completa las oraciones con antónimas de las palabras entre paréntesis.**

- ¡Qué (buen) día hace para pasear! · Laura vive en el (primer) piso de este bloque.
- He (suspendido) el examen de Lengua.
- Mi amigo quiere (vender) un coche nuevo.
- Dame el (último) libro.
- Deberías ir un poco más (rápido).
- Este vestido me queda muy (estrecho). · Cogieron el camino más (largo).

4. **Completa las oraciones con sinónimos de las palabras entre paréntesis.**

- Hemos..... (cortado) el rosal del jardín.
- Conduce demasiado..... (rápido) y es peligroso. ·
Fuimos a un restaurante y (degustamos) productos típicos.
- El partido terminó con la..... (éxito) para nuestro equipo.
- Nos gusta..... (andar) por el campo.
- Fuimos al teatro, pero la sala estaba (llena). ·
Pedí un (trozo) de esa tarta de chocolate.

Escribe el aumentativo o diminutivo según corresponda:

SUPERLATIVO

DIMINUTIVO

alto _____

bajo _____

rico _____

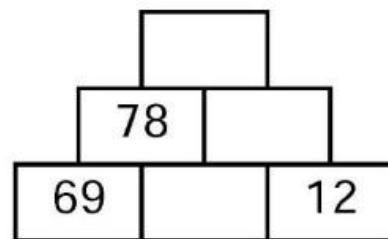
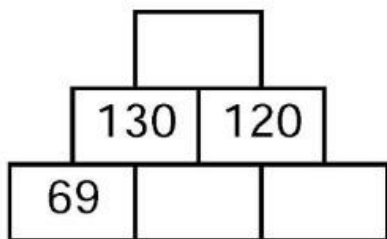
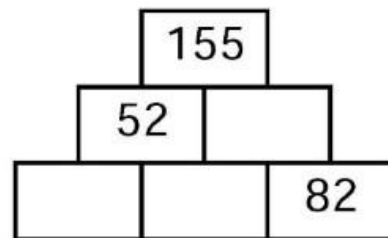
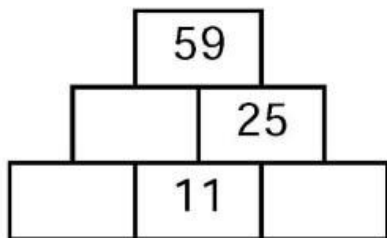
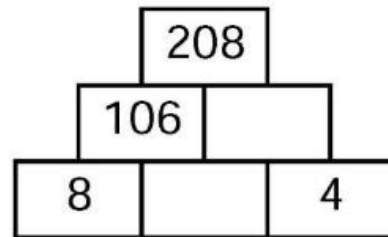
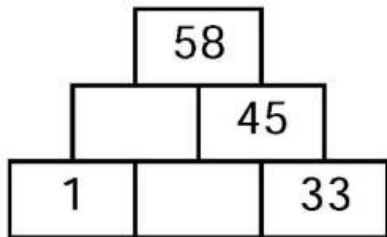
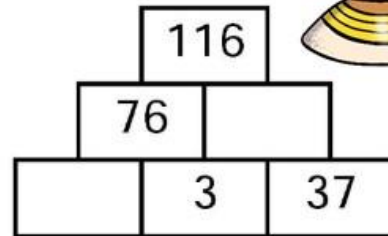
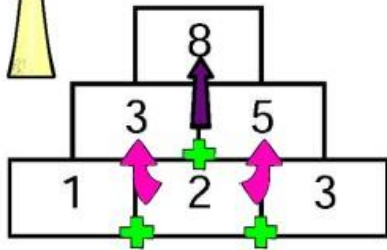
pequeño _____

oscuro _____

estrecho _____



PIRÁMIDES DE SUMAS



By acrbio



Busca las palabras en la
sopa de letras.



CALABAZA
CENICIENTA
CRISTAL
HADA



PRÍNCIPE
RATONES
RELOJ
ZAPATO

D	C	O	T	A	P	A	Z	R	X	A
V	N	E	N	S	V	E	A	O	P	Z
O	L	K	N	R	O	T	F	R	N	A
B	I	A	L	I	O	U	I	A	F	B
R	A	Y	T	N	C	N	U	I	H	A
C	G	S	E	S	C	I	W	P	U	L
D	W	S	J	I	I	C	E	G	H	A
S	V	M	P	S	X	R	B	N	M	C
Q	R	E	S	C	E	E	C	K	T	J
H	A	D	A	B	F	P	O	O	S	A
K	R	E	L	O	J	C	L	N	G	Z

Pon acento ortográfico a las siguientes palabras:

Camion arbol polvora raton pájaro