

[Escriba aquí]



CEPA Las Palmas

CUADERNO ESPECIAL DÍA DE CANARIAS



GRAN CANARIA

CURSO 2020 – 21

NOMBRE: _____

[Escriba aquí]

PREHISTORIA DE GRAN CANARIA

Los primeros pobladores de Gran Canaria se llamaban **kanarii** y la isla **Kanaria**. Se cree que vinieron del norte de África entre los siglos V y I antes de Cristo, eran **pueblos de origen bereber (amazig)**.



[Escriba aquí]

Elige la respuesta correcta y márcala con una x

1º- Los primeros pobladores de Gran Canaria se llamaban:

canarios canatos kanarii

Habitaban en cuevas (trogloditas) y luego en casas circulares de piedra y planta cruciforme, cubiertas de palos, lajas, hojas y ramas.



Marca las respuestas correctas con una X

2º- Los aborígenes canarios vivieron en:

cabañas cuevas casas de piedra

[Escriba aquí]

Se alimentaban de dátiles , cebada ,trigo, carne y leche de cabra, oveja ,también cerdo. Lapas, burgados, pescado y morenas , llegando a utilizar anzuelos fabricados con cuernos de cabra. El gofio alimento habitual hecho con cebada, trigo, helechos, etc.



Escribe el nombre de cuatro alimentos utilizados por los primitivos canarios :

Alimentos:

[Escriba aquí]

En Canaria (Gran Canaria) el jefe era el **Guanarteme**. La isla estaba dividida **en diez cantones o zonas**. **Acorán** era el nombre del dios supremo.

Completa las frases:

El nombre del dios supremo para los primeros habitantes de Gran Canaria era _____



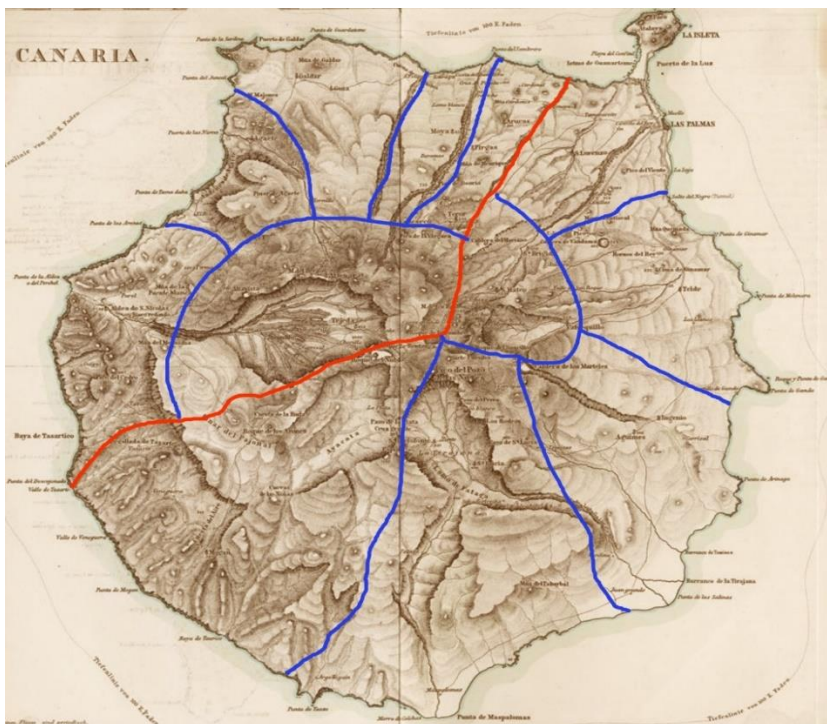
Galdar(Agaldar)

Cueva pintada de

[Escriba aquí]

¿ En cuántas partes estaba dividida Gran Canaria?

Gran Canaria estaba dividida en _____ o zonas.



¿Cómo se le llamaba al jefe de Gran Canaria (Kanaria)? Marca con una x

a).- Ancor

b).- Geronte

c).- Guanarteme







[Escriba aquí]

La fiesta más importante para los aborígenes la celebraban en junio, cuando recogían las cosechas y se llamaba **beñesmen**.

¿Cómo llamaban los aborígenes a su fiesta principal? _____

En dos grandes reinos estaba dividida la isla: **Agaldar** en el norte y **Telde** en el sur.

Resuelve estas operaciones.

123	8	468	888	6782	56
<u>+123</u>	<u>- 2</u>	<u>+234</u>	<u>- 444</u>	<u>- 3219</u>	<u>+36</u>
					

[Escriba aquí]

Realiza estas sumas y restas encadenadas:

$$2+2 = \square + 3 = \square - 1 = \square + 5 = \square$$

Copia las frases:

Los antiguos pobladores de Gran Canaria vinieron del norte de África.

Si Airán tiene 33 cabras y Geronte tiene 28. ¿Cuántas cabras tienen entre los dos?

Datos

Airán tiene cabras.

Geronte tiene cabras.

Operaciones

○

[Escriba aquí]

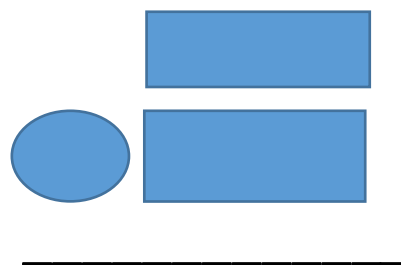
Iballa tenía 25 quesos y cambió 12 por unos 5

sacos de cebada. ¿Cuántos quesos le quedaron a Iballa?

Datos

Iballa tenía quesos.

Operaciones

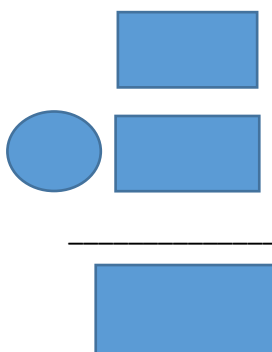


Iballa cambió quesos

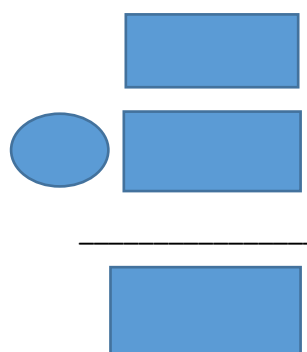
Resultado: A Iballa le quedaron quesos.

Coloca y resta

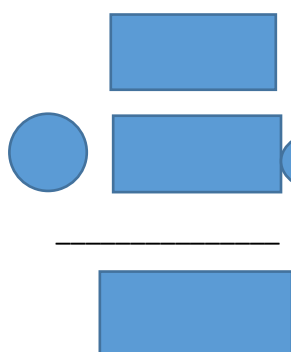
$66 - 33$



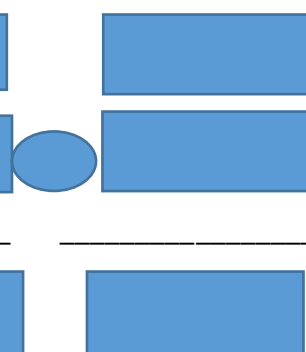
$86 - 43$



$52 - 22$



$98 - 17$



[Escriba aquí]

















Coloca y suma

$45 + 32$


$78 + 31$

$25 + 45$


$62 + 36$

			
 	 	 	 
<hr/> 	<hr/> 	<hr/> 	<hr/> 


C



casa



campana




carro

Sopa de letras

c	a	s	e	c	u	i	d	a	e
a	s	c	h	u	z	a	s	c	d
s	e	a	r	c	b	c	e	a	m
a	z	l	b	e	i	o	l	m	c
l	c	a	m	p	a	n	a	a	o
u	n	b	e	c	z	c	e	u	r
a	c	a	r	a	c	o	l	a	o
a	e	z	c	t	h	j	u	i	n
a	c	a	r	r	o	c	l	d	a
c	c	n	c	o	n	e	j	o	n


C




cama



calabaza



corona



[Escriba aquí]

 Tu co _____	 Mi cu _____ ra	 Mi cachu _____
 Tu _____ pón	 Su _____ cle	 Su _____ vo
 Tu _____ go	 Mi serru _____	 Mi ma _____ te
 Su le _____	 Su _____ leco	 Tu can _____
che-cho-chi-cha-chu-chan		
<small>ACTIVIDAD. - ESCRIBE EN LA LÍNEA LA SÍLABA QUE HACE FALTA. COLOREA LOS DIBUJOS Y ESCRIBE LAS PALABRAS EN TU CUADERNO. PON ESPECIAL ATENCIÓN AL USO DE LOS ADJETIVOS POSESIVOS MI, TU, SU.</small>		



Dibuja un cuadrado



Dibuja un triángulo



[Escriba aquí]

Nombre: Fecha: Curso:

Fichas con monedas



-----€



-----€



-----€



-----€

www.edufichas.com



-----€



-----€

www.edufichas.com

Escribe números de dos en dos:

2, __, 6, __, 10, __, 14, __, __, 20, __, __, __, 28, 30, __,
__, 36, 38, __, 42, __, 46, __, 50, __, 54, __, __, 60, __

[Escriba aquí]

Ordena las palabras para escribir una frase debajo:

un

roto

he

vaso

1

Frase:

un

beso

date

quiero

2

Frase:

yo

cocino

sa

si

3

Frase:

nudo

desataré

te

e

4

Frase:

24

¿Qué hora es?



[Escriba aquí]

Ordena de mayor a menor estos números :

34 67 89 23 99 12 57

> > > > > >

Escribe el número anterior y el posterior:

Número anterior Número posterior

<input type="text"/>	52	<input type="text"/>
<input type="text"/>	50	<input type="text"/>
<input type="text"/>	51	<input type="text"/>
<input type="text"/>	53	<input type="text"/>
<input type="text"/>	54	<input type="text"/>

51 53 48 52 54
53 49 51 50 52


[Escriba aquí]

Escribe a la derecha de cada mayúscula su minúscula correspondiente:

Name _____

Directions: Paste the missing letters onto the correct spot!

A		H		O			
B		I		P			
C		J		Q		V	
D		K		R		W	
E		L		S		X	
F		M		T		Y	
G		N		U		Z	




b	y	l	k	r	x	e	v	d
m	p	o	c	j	i	a	f	w
q	n	g	u	t	z	s	h	

bilim 2014

[Escriba aquí]

Señala cuál de las dos imágenes de abajo es igual de grande que la de arriba.



4

Escribe el nombre de todas las islas canarias:

[Escriba aquí]






[Escriba aquí]

Mi nombre:

Fecha: Hora:

ecognitiva

De las imágenes de abajo, ¿Cuál es igual que esta?



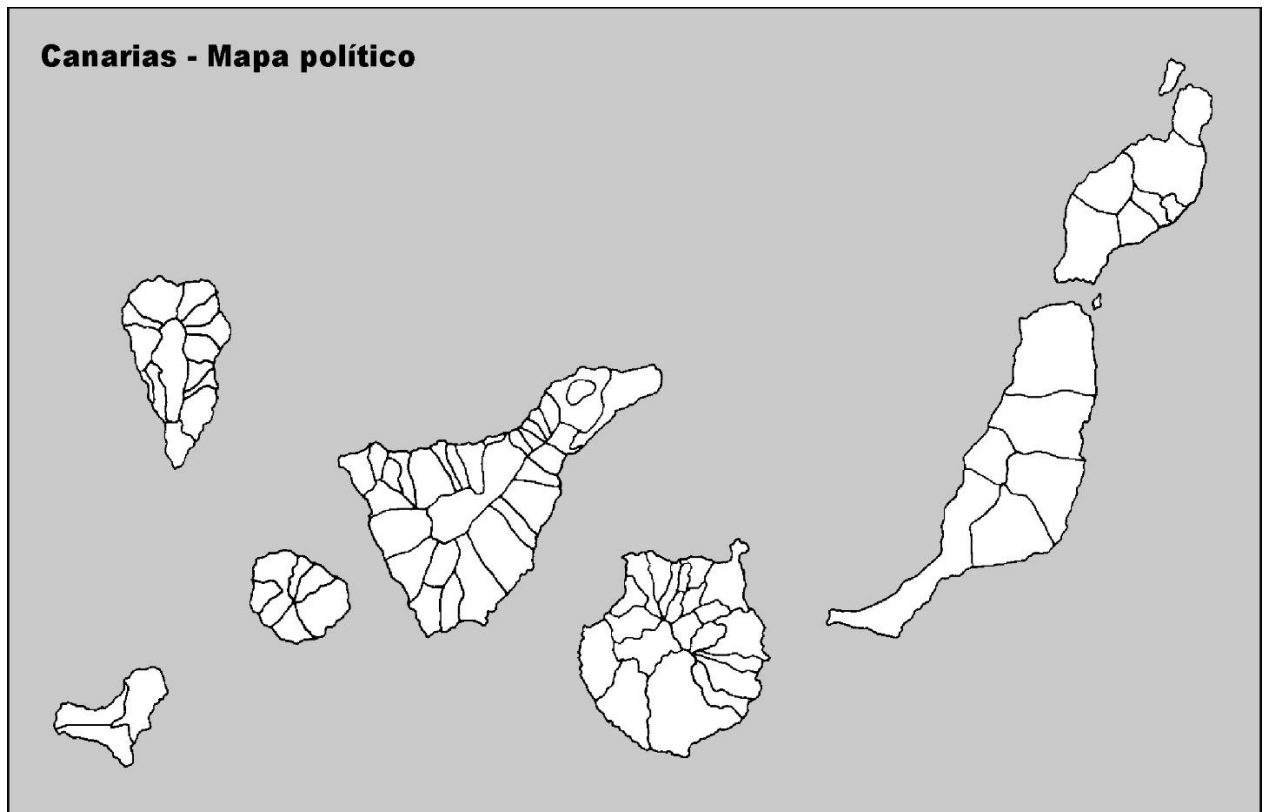
[Escriba aquí]

Escribe la letra mayúscula que corresponde al nombre de cada isla canaria al lado de la correspondiente:

A = Tenerife B= La Gomera C= El Hierro

D= Gran Canaria E= La Palma F= Fuerteventura

G= Lanzarote H= La Graciosa



[Escriba aquí]