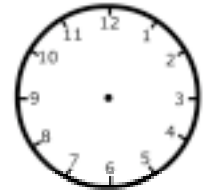
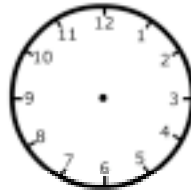
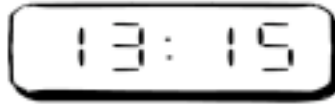
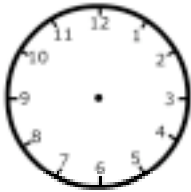
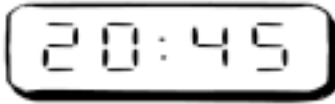


Nombre y apellidos:

Curso: Fecha:

6 Representa en los relojes de agujas estas horas:



7 Un reloj señala las 17:20 horas. ¿Cuánto tiempo falta para las 10 de la noche?

.....

8 El cumpleaños de Pedro es el 11 de febrero, y el de Beatriz, el 16 de marzo. Los dos tienen 9 años. ¿Cuántos días de diferencia se llevan?

.....

9 El año 2008 es bisiesto. ¿Será bisiesto el año 2016? ¿Por qué?

.....

.....

10 En el mundo anglosajón la fecha se escribe en formato aa/mm/dd, que indica, respectivamente, el año, el mes y el día. Según eso, ¿qué fecha representan los siguientes números?

a) 09/12/23 →

b) 10/06/30 →

c) 07/11/11 →