





UNIDAD 2 MATEMÁTICAS

AR

Nombre y apellidos:

Curso: Fecha:

1 Escribe con cifras y con letras los números representados en los ábacos.



..... →

..... →

..... →

..... →

2 Completa.

2 UM = C

4 UM = U

6 UM = C

5 UM = U

7 DM = UM

8 DM = U

9 DM = UM

3 DM = U

3 Observa estos números y rodea en rojo la cifra de las decenas de millar, y en azul, la cifra de las unidades de millar:

1 4 2 0 7

3 8 9 3 1

5 3 0 6 5

9 4 9 4 0

4 Escribe el número que corresponde a cada descomposición.

40 000 + 6 000 + 500 + 2 =

5 000 + 200 + 60 + 8 =

80 000 + 3 000 + 700 + 10 =

3 000 + 800 + 10 + 9 =