







Dibuja el camino empezando por el 2 y acabando por el 200, contando de dos en dos.

			128	130	136	138	144	146	
			126	132	134	140	142	148	150
			124	122	120	118	156	154	152
4	2	16	18	108	110	116	158	160	162
6	12	14	20	106	112	114	168	166	164
8	10	24	22	104	174	172	170	192	194
38	36	26	28	102	176	178	180	190	196
40	34	32	30	100	98	96	182	188	198
42	60	62	64	66	68	94	184	186	200
44	58	56	74	72	70	92			
46	48	54	76	82	84	90			
	50	52	78	80	86	88			



Dibuja el camino empezando por el 2 y acabando por el 200, contando de dos en dos.

			2	4	6	8	18	20	
			68	66	64	10	16	22	24
			70	72	62	12	14	28	26
114	112	78	76	74	60	42	40	30	32
116	110	80	82	84	58	44	38	36	34
118	108	106	104	86	56	46	48	190	192
120	126	128	102	88	54	52	50	188	194
122	124	130	100	90	176	178	184	186	196
140	138	132	98	92	174	180	182	200	198
142	136	134	96	94	172	170			
144	146	152	154	160	162	168			
	148	150	156	158	164	166			



Dibuja el camino empezando por el 2 y acabando por el 200, contando de dos en dos.

126	128	142	144	146	196	198			
124	130	140	138	148	194	200			
122	132	134	136	150	192				
120	118	156	154	152	190	188	186	184	182
114	116	158	160	162	164	166	172	174	180
112	110	108	106	80	78	168	170	176	178
98	100	102	104	82	76	74	72	70	68
96	90	88	86	84	38	40	42	64	66
94	92		12	14	36	34	44	62	60
			10	16	18	32	46	48	58
			8	6	20	30	28	50	56
			2	4	22	24	26	52	54



Dibuja el camino empezando por el 2 y acabando por el 200, contando de dos en dos.

174	176	178	184	186	196	198			
172	170	180	182	188	194	200			
166	168	158	156	190	192				
164	162	160	154	152	150	148	146	140	138
110	112	114	120	122	124	126	144	142	136
108	106	116	118	84	82	128	130	132	134
102	104	90	88	86	80	78	72	70	68
100	94	92	18	20	22	76	74	64	66
98	96		16	26	24	34	36	62	60
			14	28	30	32	38	56	58
			12	10	8	42	40	54	52
			2	4	6	44	46	48	50



Dibuja el camino empezando por el 2 y acabando por el 200, contando de dos en dos.

126	128	142	144	146	196	198			
124	130	140	138	148	194	200			
122	132	134	136	150	192				
120	118	156	154	152	190	188	186	184	182
114	116	158	160	162	164	166	172	174	180
112	110	108	106	80	78	168	170	176	178
98	100	102	104	82	76	74	72	70	68
96	90	88	86	84	38	40	42	64	66
94	92		12	14	36	34	44	62	60
			10	16	18	32	46	48	58
			8	6	20	30	28	50	56
			2	4	22	24	26	52	54



Dibuja el camino empezando por el 2 y acabando por el 200, contando de dos en dos.

166	168	170	172	194	196	198			
164	178	176	174	192	190	200			
162	180	182	184	186	188				
160	158	144	142	140	126	124	122	108	106
154	156	146	136	138	128	118	120	110	104
152	150	148	134	132	130	116	114	112	102
10	12	14	20	22	24	90	92	94	100
8	6	16	18	28	26	88	86	96	98
2	4		32	30	48	50	84	82	80
			34	44	46	52	66	68	78
			36	42	56	54	64	70	76
			38	40	58	60	62	72	74



Dibuja el camino empezando por el 2 y acabando por el 200, contando de dos en dos.

14	12	6	4					130	132
16	10	8	2				126	128	134
18	20	38	40				124	122	136
24	22	36	42	44	106	108	118	120	138
26	32	34	48	46	104	110	116	142	140
28	30	52	50	100	102	112	114	144	146
66	64	54	56	98	164	162	160	158	148
68	62	60	58	96	166	168	170	156	150
70	72	90	92	94	200	198	172	154	152
76	74	88				196	174	180	182
78	84	86				194	176	178	184
80	82					192	190	188	186



Dibuja el camino empezando por el 2 y acabando por el 200, contando de dos en dos.

			2	4	6	8	18	20	
			68	66	64	10	16	22	24
			70	72	62	12	14	28	26
114	112	78	76	74	60	42	40	30	32
116	110	80	82	84	58	44	38	36	34
118	108	106	104	86	56	46	48	190	192
120	126	128	102	88	54	52	50	188	194
122	124	130	100	90	176	178	184	186	196
140	138	132	98	92	174	180	182	200	198
142	136	134	96	94	172	170			
144	146	152	154	160	162	168			
	148	150	156	158	164	166			



Dibuja el camino empezando por el 2 y acabando por el 200, contando de dos en dos.

120	118	116	114					16	18
122	124	126	112				12	14	20
140	138	128	110				10	8	22
142	136	130	108	102	100	2	4	6	24
144	134	132	106	104	98	32	30	28	26
146	148	150	156	158	96	34	36	42	44
172	170	152	154	160	94	92	38	40	46
174	168	166	164	162	88	90	52	50	48
176	178	196	198	200	86	84	54	56	58
182	180	194				82	80	62	60
184	190	192				76	78	64	66
186	188					74	72	70	68



Dibuja el camino empezando por el 2 y acabando por el 200, contando de dos en dos.

174	176	178	184	186	196	198			
172	170	180	182	188	194	200			
166	168	158	156	190	192				
164	162	160	154	152	150	148	146	140	138
110	112	114	120	122	124	126	144	142	136
108	106	116	118	84	82	128	130	132	134
102	104	90	88	86	80	78	72	70	68
100	94	92	18	20	22	76	74	64	66
98	96		16	26	24	34	36	62	60
			14	28	30	32	38	56	58
			12	10	8	42	40	54	52
			2	4	6	44	46	48	50



Dibuja el camino empezando por el 2 y acabando por el 200, contando de dos en dos.

24	22	16	14					88	90
26	20	18	12				84	86	92
28	30	32	10				82	80	94
42	40	34	8	2	72	74	76	78	96
44	38	36	6	4	70	116	114	100	98
46	60	62	64	66	68	118	112	102	104
48	58	56	174	172	170	120	110	108	106
50	52	54	176	166	168	122	124	130	132
188	186	180	178	164	162	160	126	128	134
190	184	182				158	156	154	136
192	198	200				148	150	152	138
194	196					146	144	142	140



Dibuja el camino empezando por el 2 y acabando por el 200, contando de dos en dos.

24	22	16	14					88	90
26	20	18	12				84	86	92
28	30	32	10				82	80	94
42	40	34	8	2	72	74	76	78	96
44	38	36	6	4	70	116	114	100	98
46	60	62	64	66	68	118	112	102	104
48	58	56	174	172	170	120	110	108	106
50	52	54	176	166	168	122	124	130	132
188	186	180	178	164	162	160	126	128	134
190	184	182				158	156	154	136
192	198	200				148	150	152	138
194	196					146	144	142	140



Dibuja el camino empezando por el 2 y acabando por el 200, contando de dos en dos.

14	12	6	4					130	132
16	10	8	2				126	128	134
18	20	38	40				124	122	136
24	22	36	42	44	106	108	118	120	138
26	32	34	48	46	104	110	116	142	140
28	30	52	50	100	102	112	114	144	146
66	64	54	56	98	164	162	160	158	148
68	62	60	58	96	166	168	170	156	150
70	72	90	92	94	200	198	172	154	152
76	74	88				196	174	180	182
78	84	86				194	176	178	184
80	82					192	190	188	186



Dibuja el camino empezando por el 2 y acabando por el 200, contando de dos en dos.

174	176	178	184	186	196	198			
172	170	180	182	188	194	200			
166	168	158	156	190	192				
164	162	160	154	152	150	148	146	140	138
110	112	114	120	122	124	126	144	142	136
108	106	116	118	84	82	128	130	132	134
102	104	90	88	86	80	78	72	70	68
100	94	92	18	20	22	76	74	64	66
98	96		16	26	24	34	36	62	60
			14	28	30	32	38	56	58
			12	10	8	42	40	54	52
			2	4	6	44	46	48	50



Dibuja el camino empezando por el 2 y acabando por el 200, contando de dos en dos.

			2	4	6	8	18	20	
			52	50	48	10	16	22	24
			54	56	46	12	14	28	26
102	100	66	64	58	44	42	40	30	32
104	98	68	62	60	78	80	38	36	34
106	96	70	72	74	76	82	188	190	192
108	94	92	90	88	86	84	186	184	194
110	112	114	164	166	172	174	180	182	196
124	122	116	162	168	170	176	178	200	198
126	120	118	160	158	152	150			
128	130	136	138	156	154	148			
	132	134	140	142	144	146			



Dibuja el camino empezando por el 2 y acabando por el 200, contando de dos en dos.

			6	8	10	164	166	168	
			4	14	12	162	160	170	172
			2	16	146	148	158	176	174
38	36	26	24	18	144	150	156	178	180
40	34	28	22	20	142	152	154	184	182
42	32	30	56	58	140	130	128	186	188
44	50	52	54	60	138	132	126	192	190
46	48	74	72	62	136	134	124	194	196
84	82	76	70	64	118	120	122	200	198
86	80	78	68	66	116	114			
88	90	96	98	104	106	112			
	92	94	100	102	108	110			



Dibuja el camino empezando por el 2 y acabando por el 200, contando de dos en dos.

14	12	6	4					130	132
16	10	8	2				126	128	134
18	20	38	40				124	122	136
24	22	36	42	44	106	108	118	120	138
26	32	34	48	46	104	110	116	142	140
28	30	52	50	100	102	112	114	144	146
66	64	54	56	98	164	162	160	158	148
68	62	60	58	96	166	168	170	156	150
70	72	90	92	94	200	198	172	154	152
76	74	88				196	174	180	182
78	84	86				194	176	178	184
80	82					192	190	188	186



Dibuja el camino empezando por el 2 y acabando por el 200, contando de dos en dos.

			2	4	6	8	18	20	
			68	66	64	10	16	22	24
			70	72	62	12	14	28	26
114	112	78	76	74	60	42	40	30	32
116	110	80	82	84	58	44	38	36	34
118	108	106	104	86	56	46	48	190	192
120	126	128	102	88	54	52	50	188	194
122	124	130	100	90	176	178	184	186	196
140	138	132	98	92	174	180	182	200	198
142	136	134	96	94	172	170			
144	146	152	154	160	162	168			
	148	150	156	158	164	166			

Dibuja el camino empezando por el 2 y acabando por el 200, contando de dos en dos.

174	176	178	180	194	196	198			
172	170	168	182	192	190	200			
158	160	166	184	186	188				
156	162	164	142	140	138	124	122	116	114
154	152	150	144	134	136	126	120	118	112
20	22	148	146	132	130	128	106	108	110
18	24	26	28	30	32	102	104	94	92
16	10	8	6	36	34	100	98	96	90
14	12		4	38	56	58	60	62	88
			2	40	54	72	70	64	86
			44	42	52	74	68	66	84
			46	48	50	76	78	80	82

Dibuja el camino empezando por el 2 y acabando por el 200, contando de dos en dos.

14	12	6	4					130	132
16	10	8	2				126	128	134
18	20	38	40				124	122	136
24	22	36	42	44	106	108	118	120	138
26	32	34	48	46	104	110	116	142	140
28	30	52	50	100	102	112	114	144	146
66	64	54	56	98	164	162	160	158	148
68	62	60	58	96	166	168	170	156	150
70	72	90	92	94	200	198	172	154	152
76	74	88				196	174	180	182
78	84	86				194	176	178	184
80	82					192	190	188	186