

Realizar primero las multiplicaciones de la columna de la izquierda. Buscar las operaciones en la sopa de letras.

Nome: _____
Atividades Suzano



MULTIPLICANDO

Procure no caça o resultado das multiplicações ao lado, siga o exemplo:



Operações:

$6 \times 5 = 30$
$4 \times 7 =$
$2 \times 9 =$
$8 \times 2 =$
$7 \times 8 =$
$5 \times 5 =$
$9 \times 8 =$
$4 \times 6 =$
$7 \times 7 =$
$3 \times 6 =$
$6 \times 7 =$
$8 \times 6 =$
$7 \times 5 =$
$1 \times 4 =$
$9 \times 3 =$
$4 \times 2 =$
$2 \times 4 =$
$5 \times 9 =$
$7 \times 6 =$
$3 \times 3 =$


2	5	1	4	4	7	2	8	7	8	9	3	3	9	1	0	7
1	9	3	2	7	2	5	7	8	8	6	4	9	0	3	7	5
4	6	8	1	0	1	2	1	4	2	9	1	8	1	6	1	1
1	8	2	0	6	5	3	0	2	4	2	6	1	8	1	5	7
2	1	4	4	4	7	1	4	2	1	7	5	3	5	2	6	9
1	7	7	6	8	2	1	6	3	7	6	9	9	0	6	4	3
2	7	6	4	2	5	6	8	6	9	9	8	7	2	8	9	2
4	5	3	2	4	3	7	8	9	8	6	5	4	3	3	2	1
8	7	8	5	6	4	7	4	7	8	6	4	8	7	5	8	7
9	7	5	7	2	4	8	4	2	5	5	6	5	9	4	5	5
0	6	8	9	0	5	5	5	2	5	5	4	3	2	8	9	0
8	2	4	6	8	9	1	0	6	5	4	6	7	4	2	3	3
6	4	6	2	4	4	5	6	7	8	9	0	1	2	3	4	6
4	5	6	7	6	5	7	7	4	9	5	7	8	9	3	2	1
4	3	6	1	8	2	6	9	4	3	2	4	2	8	4	7	5

Colocar el signo que corresponda a cada problema.



EL SIGNO CORRECTO

● Lee estas situaciones problemáticas. Descubre qué operación necesitas realizar para poder resolverlas y dibuja el signo.


+ Suma **-** Resta **X** Multiplicación **:** División




EN MI FIESTA DE CUMPLEAÑOS HABÍA 60 GLOBOS Y SE PINCHARON 14. ¿CUÁNTOS QUEDARON?



QUIERO REPARTIR ESTA TARTA DE 10 RACIONES ENTRE 2 AMIGOS. ¿CUÁNTAS RACIONES LE TOCARÁN A CADA UNO?



UN PAYASO ANIMÓ LA FIESTA. TRAJÓ 12 GLOBOS AZULES Y 33 AMARILLOS. ¿CUÁNTOS ERAN EN TOTAL?



● Escribe una situación sencilla que se resuelva con el único signo que no hemos utilizado todavía.