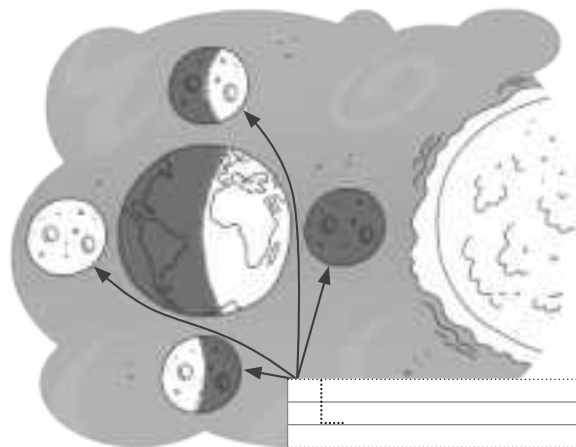



Nombre: ..... Fecha: ..... Curso: .....

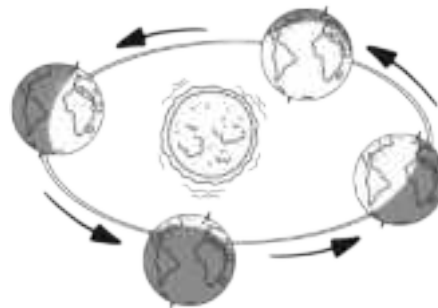
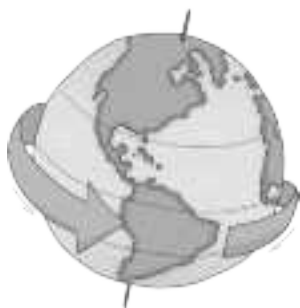
**1** ¿Qué es el Sol? Marca.

- Es un planeta del sistema solar.
- Es la estrella principal del sistema solar.
- Es un sistema solar.

**2** ¿Dónde se encuentra la Tierra? Coloréala en cada caso y completa los carteles.



**3** Une estas imágenes con el movimiento de la Tierra que representan.



•

•

•

•

La Tierra gira alrededor del Sol y da lugar a las estaciones.

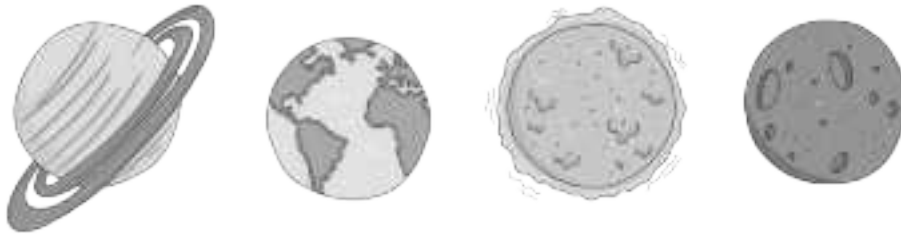
La Tierra gira sobre sí misma y da lugar al día y la noche.

Nombre: ..... Fecha: ..... Curso: .....

- 4 Lee lo que ha escrito Sergio en su diario y responde.

- Cuando sea mayor me gustaría mucho ser astronauta. Podría viajar en cohete y pisar la Luna. Pero sobre todo, lo que más me gustaría es saber cómo se verá el planeta Tierra desde el espacio.

- ¿Qué planeta le gustaría ver a Sergio desde el espacio? Rodea.



- ¿Cómo verá Sergio la Tierra desde el espacio? Coloréala según el código.

Azul → agua  
Marrón → continentes  
Amarillo → atmósfera



- Para que Sergio conozca algunas zonas de la Tierra, une los nombres con su lugar correspondiente en el globo terráqueo.

Polo Norte

hemisferio norte

Polo Sur

hemisferio sur

